



Región de Murcia
Consejería de Educación y
Cultura

PRUEBA DE DESTREZAS BÁSICAS

6º EDUCACIÓN PRIMARIA

MATEMÁTICAS



Tiempo de realización: 50 minutos

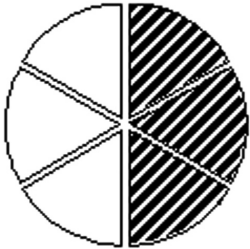




1. Marca el valor de posición de la cifra "2" en el número 4.102.034.

- A. Dos mil
- B. Dos mil doscientos
- C. 2.000.000
- D. 20.000

2. Fijándote en el gráfico, marca la fracción correcta y su equivalente:



- A. $3/6$ y $1/4$
- B. $3/6$ y $1/2$
- C. $3/6$ y $2/3$
- D. $3/4$ y $18/36$

3. Piensa, resuelve y marca la respuesta correcta:

"Si aparcas en el cuarto sótano y subes nueve plantas, ¿a qué piso llegas?"

- A. Sexto
- B. Cuarto
- C. Noveno
- D. Quinto

4. Calcula: Haz 49 veces mayor el número 3.406

- A. 165.894
- B. 163.488
- C. 166.894
- D. 164.894

OPERACIONES



5. Realiza la división y marca la respuesta correcta: $631,55 : 85$

- A. 74,3
- B. 7,43
- C. 75,3
- D. 7,53

OPERACIONES



6. Marca la respuesta correcta: $0,625 \times 10.000$.

- A. 6250
- B. 625
- C. 6,25
- D. 62,5

7. Lee atentamente el problema, resuélvelo y marca la respuesta correcta:

"Un avión tiene que recorrer 840 kilómetros. Cuando lleve realizados $5/6$ del trayecto. ¿Cuántos kilómetros ha recorrido?"

- A. 60
- B. 70
- C. 700
- D. 600

OPERACIONES





8. Lee atentamente el problema, resuélvelo y marca la respuesta correcta:

"En un hotel hay 4 pisos, en cada piso hay 4 habitaciones. En cada habitación hay alojadas 4 personas y cada una hace 4 llamadas telefónicas. ¿Cuántas llamadas hacen en total?"

- A. 256
- B. 12
- C. 16
- D. 64

OPERACIONES



9. Lee atentamente el problema, resuélvelo y marca la respuesta correcta:

"Una chica se compra un pantalón que vale 150 €. Si le hacen una rebaja del 20%. ¿Cuánto pagará?"

- A. 180 €
- B. 140 €
- C. 120 €
- D. 110 €

OPERACIONES



10. Piensa, resuelve y marca la respuesta correcta:

"Para pagar un teléfono móvil que vale 92 € con el menor número de billetes y monedas tengo que entregar..."

- A. 1 billete de 50 €, 2 billetes de 20 € y 2 monedas de 1 €
- B. 4 billetes de 20 €, 1 billete de 10 € y 1 moneda de 2 €
- C. 1 billete de 50 €, 4 billetes de 10 € y 2 monedas de 1 €
- D. 1 billete de 50 €, 2 billetes de 20 € y 1 moneda de 2 €

11. Piensa, resuelve y marca la respuesta correcta:

"¿Cuántos decámetros hay en 450 centímetros?"

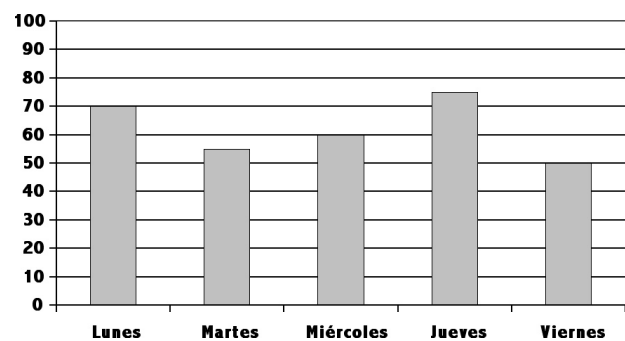
- A. 4,50
- B. 450.000
- C. 0,450
- D. 4.500

OPERACIONES



12. Observa el gráfico de barras y marca la respuesta correcta de la pregunta:

"¿Qué dos días hubo menos accidentes de tráfico?"



- A. Lunes y jueves
- B. Lunes y martes
- C. Miércoles y viernes
- D. Martes y viernes





13. Piensa, resuelve y marca la respuesta correcta

"Las notas de mis tres primeros controles de matemáticas son: 7,5, 8,6 y 5,75. ¿Cuál es la nota media alcanzada en esta materia?"

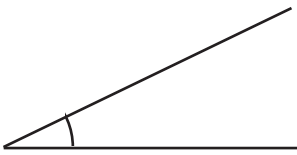
- A. 72,83
- B. 7,283
- C. 2,185
- D. 21,85

OPERACIONES

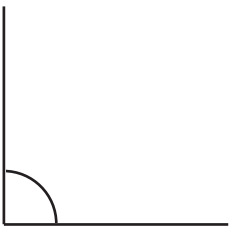


14. Marca la respuesta cuyo dibujo represente un ángulo llano.

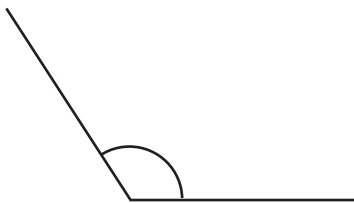
A.



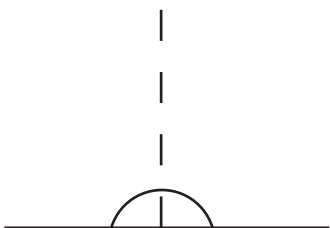
B.



C.



D.



15. Piensa, resuelve y marca la respuesta correcta.

"¿Cuál es el área de un círculo que tiene 3 centímetros de radio? ($\pi = 3,1416$)"

- A. 18,8496
- B. 28,2744
- C. 9,4248
- D. 6,2832

OPERACIONES



FIN DE LA PRUEBA.

**SI HAS TERMINADO ANTES
DEL TIEMPO CONCEDIDO,
REPASA TUS CONTESTACIONES.**

